

1 次の(1)~(6)の問いに答えなさい。

(1) $-18 \div (-3)$ を計算しなさい。

(2) $-3^2 + 16 \times \frac{3}{4}$ を計算しなさい。

(3) $2x + 3y - \frac{x + 5y}{2}$ を計算しなさい。

(4) 方程式 $x + 3.5 = 0.5(3x - 1)$ を解きなさい。

(5) $(\sqrt{2} - \sqrt{5})^2$ を計算しなさい。

(6) $(x + 2)(x - 6) - 9$ を因数分解しなさい。

2 次の(1)~(5)の問いに答えなさい。

(1) 半径 2 cm の球について正しく述べたものを、次のア~エのうちから 1 つ選び、符号で答えなさい。

ただし、円周率は π を用いることとする。

ア この球の体積は、 $\frac{16}{3}\pi \text{ cm}^3$ である。

イ この球の体積は、 $32\pi \text{ cm}^3$ である。

ウ この球の表面積は、 $16\pi \text{ cm}^2$ である。

エ この球の表面積は、 $4\pi \text{ cm}^2$ である。

(2) 右の表は、あるクラスの生徒 23 人の通学時間を度数分布表に表したものである。

10 分以上 15 分未満の階級の相対度数を求めなさい。

ただし、小数第 2 位を四捨五入して、小数第 1 位まで求めること。

階級(分)	度数(人)
以上 未満 0 ~ 5	5
5 ~ 10	6
10 ~ 15	9
15 ~ 20	2
20 ~ 25	1
計	23

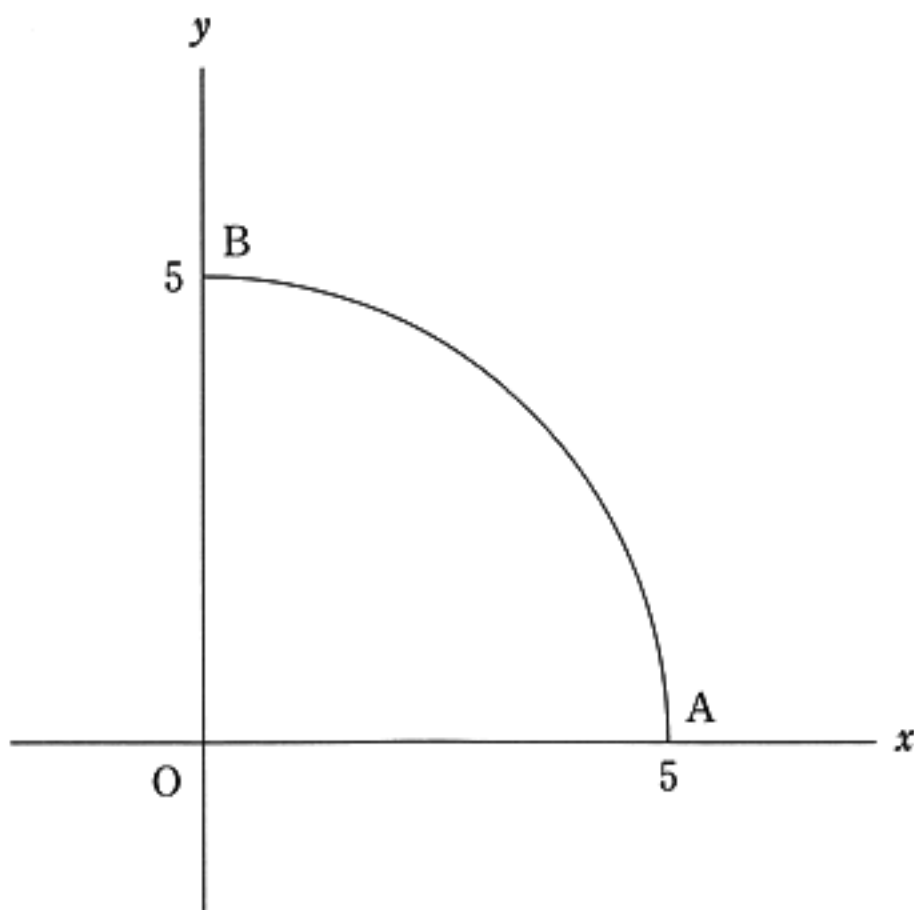
- (3) 2けたの正の整数があり、十の位の数と一の位の数の和は12である。また、十の位の数と一の位の数を入れかえてできる整数は、もとの整数より18小さい。
このとき、もとの整数を求めなさい。

- (4) 下の図のように、2点 $A(5, 0)$ 、 $B(0, 5)$ があり、線分 OA 、 OB を半径とするおうぎ形 OAB がある。

大小2つのさいころを同時に1回投げ、大きいさいころの出た目の数を a 、小さいさいころの出た目の数を b として、 (a, b) を座標とする点 P をとる。

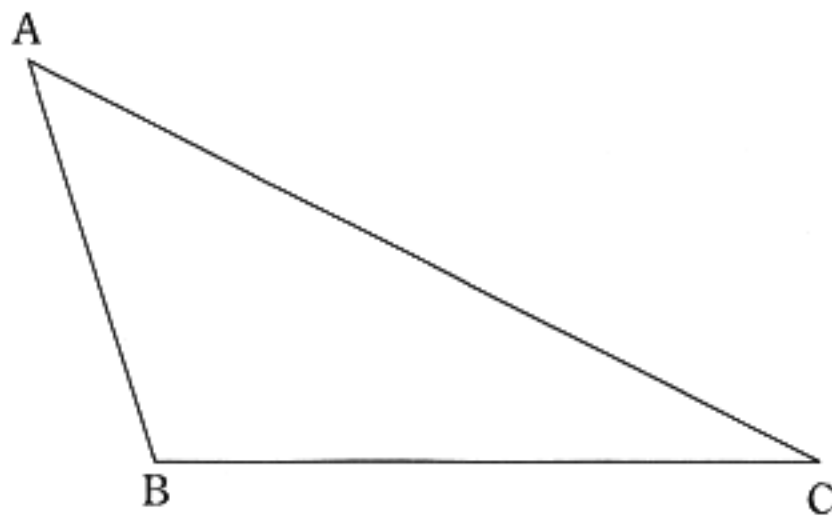
このとき、点 P がおうぎ形 OAB の内部または周上にある確率を求めなさい。

ただし、さいころを投げるとき、1から6までのどの目が出ることも同様に確からしいものとする。



- (5) 下の図の $\triangle ABC$ において、辺 AC 上にあり、 $AP:PC = 2:1$ となるような点 P を作図によって求めなさい。また、点 P の位置を示す文字 P も書きなさい。

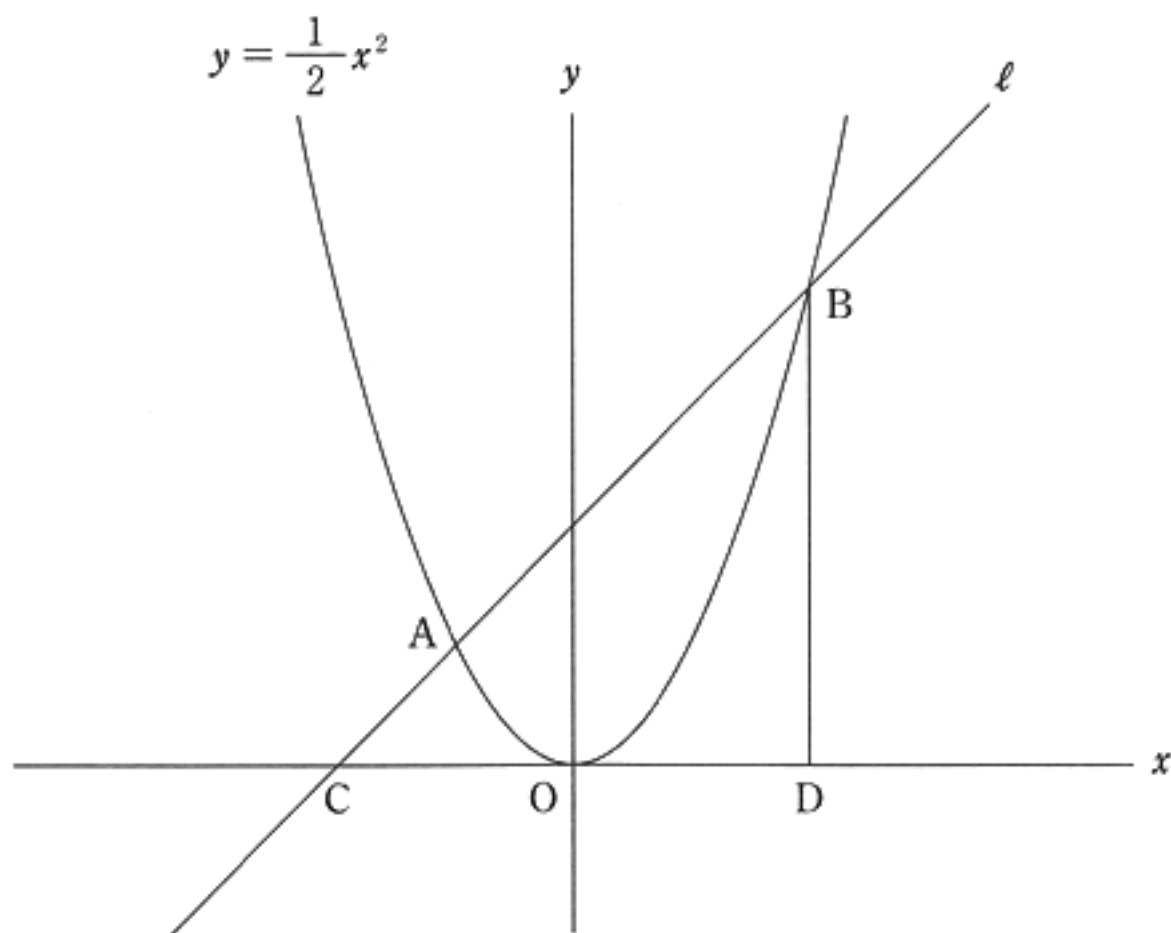
ただし、三角定規の角を利用して平行線や垂線をひくことはしないものとし、作図に用いた線は消さずに残しておくこと。



- 3 下の図のように、関数 $y = \frac{1}{2}x^2$ のグラフと直線 l の交点を A, B とし、直線 l と x 軸の交点を C とする。また、点 B から x 軸に垂線 BD をひく。

点 A の x 座標が -2 、点 B の x 座標が 4 であるとき、次の(1)、(2)の問いに答えなさい。

ただし、原点 O から点 $(1, 0)$ までの距離及び原点 O から点 $(0, 1)$ までの距離をそれぞれ 1 cm とする。



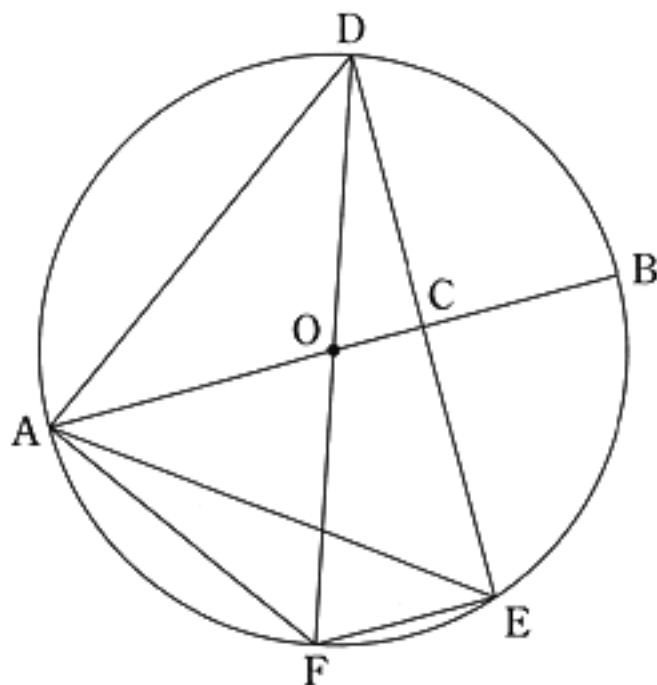
- (1) 直線 l の式を求めなさい。

- (2) 関数 $y = \frac{1}{2}x^2$ のグラフ上に点 P がある。ただし、点 P の x 座標は 0 より大きく 4 より小さい。△PCD と △PBD の面積の比が 1 : 6 であるとき、次の①、②の問いに答えなさい。

① 点 P の x 座標を求めなさい。

② △PBC を、直線 l を軸として 1 回転させてできる立体の体積を求めなさい。
ただし、円周率は π を用いることとする。

- 4 下の図のように、線分 AB を直径とする円 O がある。線分 OB 上に、2 点 O, B と異なる点 C をとる。点 C を通り、線分 OB と垂直に交わる直線と、円との交点を D, E とする。また、線分 DO の延長線と円との交点を F とする。3 点 A, E, F をそれぞれ結び、2 点 A, D を結ぶ。
- このとき、次の(1), (2)の問いに答えなさい。



- (1) $\triangle AOF \sim \triangle DAE$ となることの証明を次ページの の中に途中まで示してある。

(a) , (b) に入る最も適当なものを、次ページの選択肢のア～カのうちからそれぞれ1つずつ選び、符号で答えなさい。また、 (c) には証明の続きを書き、証明を完成させなさい。

ただし、 の中の①～④に示されている関係を使う場合、番号の①～④を用いてもかまわないものとする。

$\triangle AOF$ と $\triangle DAE$ において,

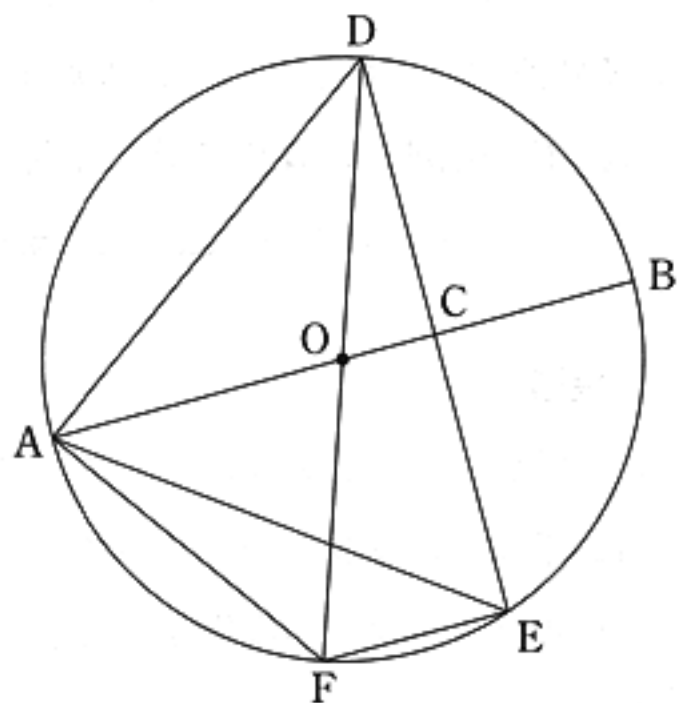
仮定より, $\angle DCA = 90^\circ$ ①

線分 DF は直径なので,

\square (a) $= 90^\circ$ ②

①, ②より, $\angle DCA = \square$ (a)③

③より, \square (b) が等しいので,
 $AB \parallel FE$ ④



(c)

選択肢

ア $\angle EAD$

イ $\angle DEF$

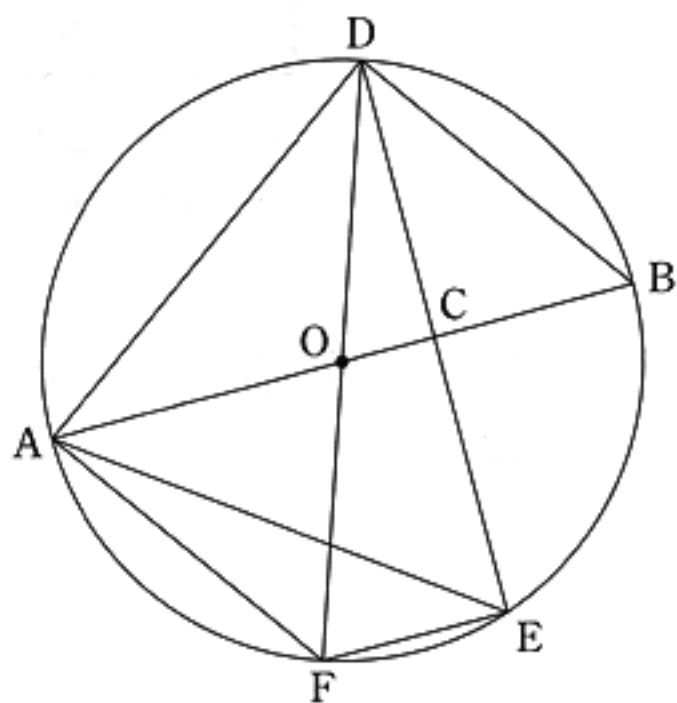
ウ $\angle FDA$

エ 円周角

オ 対頂角

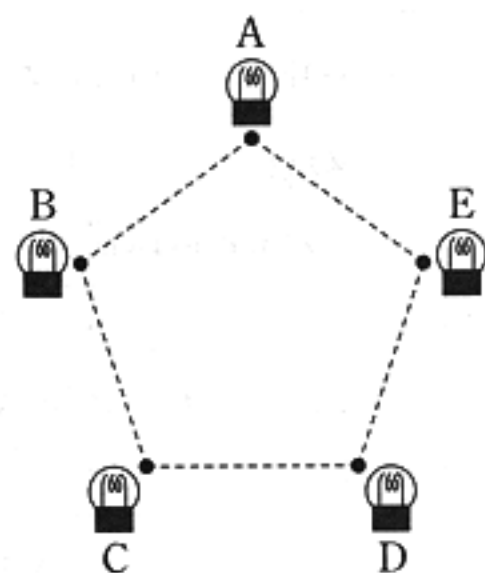
カ 同位角

(2) 2点 B, D を結ぶ。円 O の半径が 5 cm , $BD = 6\text{ cm}$ のとき, $\triangle AEF$ の面積を求めなさい。



5 右の図1のように、正五角形の頂点の位置(●)に、A～Eの電球が置いてあり、1つのボタンの操作により、それぞれが「点灯している状態」か「点灯していない状態」になる。

図1



規則

- Aの電球：ボタンの操作2回ごとに「点灯している状態」になる。
- Bの電球：ボタンの操作3回ごとに「点灯している状態」になる。
- Cの電球：ボタンの操作4回ごとに「点灯している状態」になる。
- Dの電球：ボタンの操作5回ごとに「点灯している状態」になる。
- Eの電球：ボタンの操作6回ごとに「点灯している状態」になる。

例えば、Aの電球は、「点灯している状態」からボタンを1回操作すると「点灯していない状態」になり、続けてボタンを1回操作すると「点灯している状態」になる。

下の表は、ボタンの操作回数が6回までの電球の状態を表したものである。

このとき、あとの(1)～(3)の問いに答えなさい。

表

電球 \ 操作回数	0	1	2	3	4	5	6
A	○		○		○		○
B	○			○			○
C	○				○		
D	○					○	
E	○						○

- ※ ○は「点灯している状態」、空欄は「点灯していない状態」を表す。
- ※ 操作回数の0は、操作を始める前の状態を表す。

(1) ボタンの操作回数が10回するとき、「点灯している状態」の電球をすべて選び、A～Eの符号で答えなさい。

- (2) 次の説明は、A～Eの電球の状態について述べたものである。 , に入る数をそれぞれ書きなさい。

説明

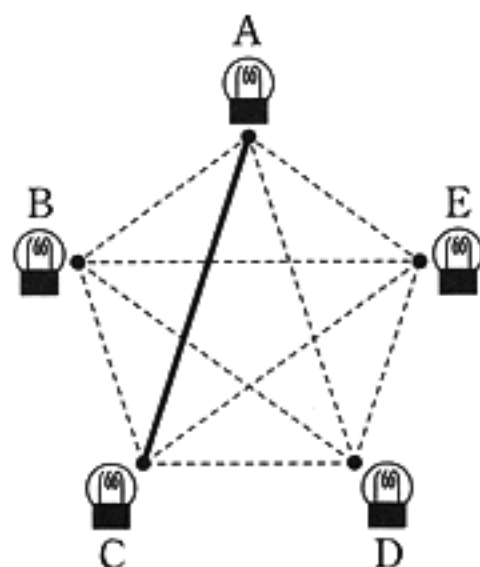
操作を始めてから、次にA～Eすべての電球が「点灯している状態」になるのは、ボタンの操作回数が 回のときである。

また、 回までの間に、すべての電球が「点灯していない状態」になるのは、全部で 回ある。

- (3) ボタンの操作により、「点灯している状態」になった電球の位置にある点をそれぞれ結ぶ。例えば、図2の太線は、ボタンの操作回数が4回のときのものである。

ボタンの操作回数が205回までの間に、A～Eの電球のうち、「点灯している状態」の電球が3つで、その電球の位置にある点を結んでできる図形が、正五角形の1つの辺と2つの対角線からなる三角形になるのは何回あるか、求めなさい。

図2



問題番号	正 解				配 点 及 び 注 意		計		
1	(1)	6		(2)	3		各 5	(3) $\frac{3x+y}{2}$ でもよい。	30
	(3)	$\frac{3}{2}x + \frac{1}{2}y$		(4)	$x = 8$				
	(5)	$7 - 2\sqrt{10}$		(6)	$(x + 3)(x - 7)$				
2	(1)	ウ		(2)	0.4		各 5	(5) 異なる作図の方法でも、正しければ、5点を与える。	25
	(3)	75		(4)	$\frac{5}{12}$				
	(5)								
3	(1)	$y = x + 4$				5		15	
	(2)	①	1		②	$27\sqrt{2}\pi$ (cm ³)			各 5

問題 番号	正 解		配 点 及 び 注 意	計	
4	(a)	イ	(b)	カ	各 2
	(1)	(c) ④より、平行線の錯角は等しいので、 $\angle AOF = \angle DFE \dots\dots⑤$ \widehat{DE} に対する円周角は等しいから、 $\angle DFE = \angle DAE \dots\dots⑥$ ⑤、⑥より、 $\angle AOF = \angle DAE \dots\dots⑦$ \widehat{AD} に対する円周角は等しいから、 $\angle AFO = \angle DEA \dots\dots⑧$ ⑦、⑧より、2組の角がそれぞれ等しい ので、 $\triangle AOF \sim \triangle DAE$		6	(c) 異なる証明の方法 でも、正しければ、 6点を与える。 また、部分点を与 えるときは、3点と する。
	(2)	$\frac{168}{25} \text{ (cm}^2\text{)}$		5	
5	(1)	A, D		3	(1) 完答で得点を与え る。
	(2)	(a) 60	(b) 16	各 4	15
	(3)	7 (回)		4	
合 計				100	