

令和5年度 本検査 学力検査

理 科

問 題 用 紙

(注意事項)

- 1 始めの指示があるまでは、開いてはいけません。
- 2 答えは、全て解答用紙に書きなさい。
- 3 検査問題は、大問9題で、1ページから17ページまで印刷されています。
検査開始後に、印刷のはっきりしないところや、ページが抜けているところがあれば、手を挙げなさい。
- 4 解答用紙だけ提出し、問題用紙は持ち帰りなさい。

1 次の(1)~(4)の問いに答えなさい。

(1) 塩化ナトリウム水溶液は、塩化ナトリウムを水にとかしてできた水溶液である。このとき、塩化ナトリウムのように、水溶液にとけている物質を何というか、書きなさい。

(2) オオカナダモの葉の細胞を顕微鏡^{けんびきょう}で観察したところ、細胞内に緑色の粒^{つぶ}が多数見られた。この緑色の粒を何というか、書きなさい。

(3) 日本列島は夏になると、あたたかく湿^{しめ}った小笠原気団の影響を受け、高温多湿^{こうおんたしつ}になることが多い。小笠原気団をつくる高気圧として最も適当なものを、次のア~エのうちから一つ選び、その符号を書きなさい。

ア 移動性高気圧

イ 太平洋高気圧

ウ オホーツク海高気圧

エ シベリア高気圧

(4) 自動車^{じどうしゃ}が36 kmの道のりを45分間で移動した。このとき、自動車の平均の速さとして最も適当なものを、次のア~エのうちから一つ選び、その符号を書きなさい。

ア 12 km/h

イ 27 km/h

ウ 48 km/h

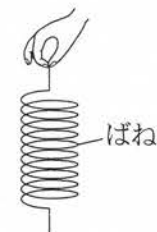
エ 80 km/h

2 力のつり合いについて調べるため、次の実験1, 2を行いました。これに関して、あとの(1), (2)の問いに答えなさい。ただし、質量100 gの物体にはたらく重力の大きさを1 Nとし、ばねの質量は考えないものとします。また、台ばかりの目もりは、物体をのせていないとき0 gを示すものとします。

実験1

- ① 図1のような、ばねに物体をつなげていないときの長さが10 cmのばねを用意した。
- ② ①のばねに、質量の異なる物体をつなげて静止したとき、ばねの伸びをそれぞれ測定した。表はその結果をまとめたものである。

図1

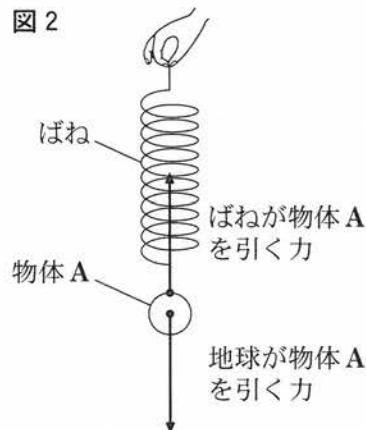


表

物体の質量[g]	0	100	200	300	400	500	600
ばねの伸び[cm]	0	4	8	12	16	20	24

なお、図2は、ばねに質量100 gの物体Aをつなげ、ばねと物体Aが静止したようすを、物体Aにはたらく力とともに表したものである。

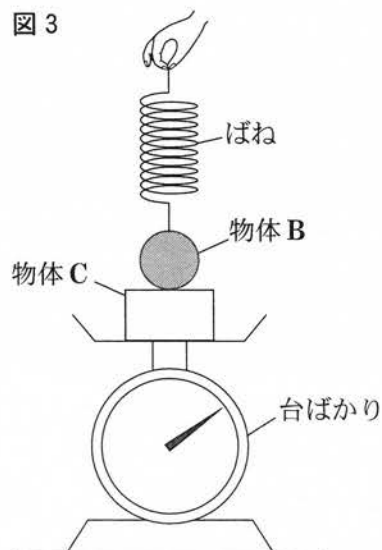
図2



実験2

- ① 図3のように、実験1で使用したのと同じばねにつなげた質量400 gの物体Bを、台ばかりの上ののせた質量200 gの物体Cの上に静かに置いた。このとき、ばねの伸びは、0 cmであった。
- ② ばねを一定の速さでゆっくりと引き上げたときの、ばねの伸びと、台ばかりの目もりを観察し、記録した。

図3



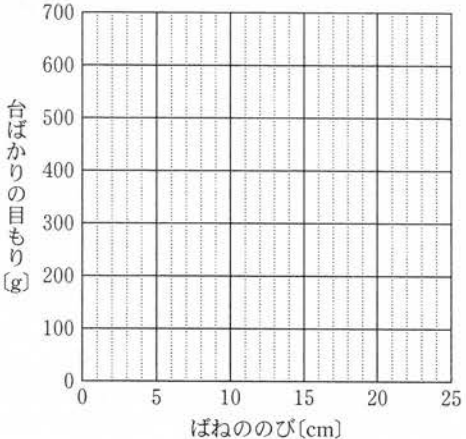
- (1) 次の文章は、実験1の②について説明したものである。文章中の w にあてはまる最も適切なことばを書きなさい。

図2のように、物体にはたらく力を表すには、矢印を用いる。図2中の矢印の・は、それぞれの力がはたらく点を示す w 点である。また、矢印の向きが力の向き、矢印の長さは力の大きさをそれぞれ表す。

- (2) 次の文章は、実験2についてのSさんたちと先生の会話である。あとの(a)~(c)の問いに答えなさい。

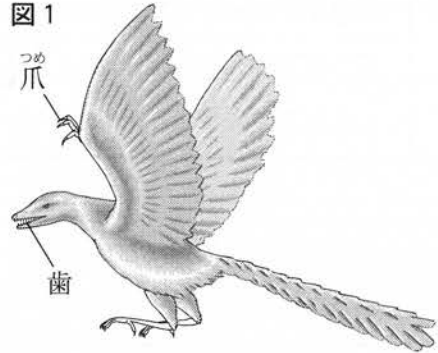
Sさん：実験2で、ばねののびが0 cm のとき、台ばかりの目もりは600 g です。
 Tさん：そうすると、台ばかりが物体Cを押す力は6 Nで、物体Cが物体Bを押す力は、4 Nでしょうか。
 先生：そうですね。それでは、ばねを一定の速さでゆっくりと引き上げて、ばねののびが4 cm のとき、物体Cが物体Bを押す力の大きさは何 N ですか。また、そのとき、台ばかりの目もりは何 g になるか予想してみましょう。
 Sさん：物体Cが物体Bを押す力の大きさは、 x Nで、台ばかりの目もりは y g です。
 先生：そうですね。そのあともばねをゆっくりと引き上げて、台ばかりの目もりが変化しなくなるまで確認してみましょう。
 Tさん：台ばかりの目もりが400 g になるとき、ばねののびは、 z cm でした。
 Sさん：台ばかりの目もりが変化しなくなるまでの、ばねののびと台ばかりの目もりを観察し、記録した結果について、グラフにかいてまとめました。
 先生：そうですね。グラフを用いて表すことができましたね。

- (a) 会話文中の x , y にあてはまる数値をそれぞれ書きなさい。
 (b) 会話文中の z にあてはまる数値を書きなさい。
 (c) ばねののびと台ばかりの目もりの関係を表すグラフを、解答用紙の図中に、実線をかきなさい。



3 Sさんたちは、理科の授業で進化について学習しました。これに関する先生との会話文を読んで、あとの(1)~(4)の問いに答えなさい。

先生：図1は、シソチョウ(始祖鳥)の復元図です。
シソチョウは、進化の道すじの手がかりになる生物です。



Sさん：全体が羽毛でおおわれていて、翼がありますね。
Tさん：翼に爪があり、口には歯もあります。

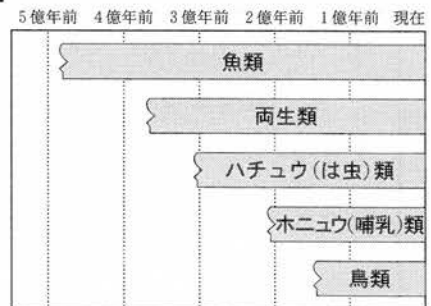
先生：そうですね。その他の化石の研究からも、
[v] は [w] から進化したのではないかと考えられています。

Sさん：なるほど。シソチョウの羽毛や翼は、[v] がもつ特徴で、爪や歯は、
[w] がもつ特徴ですね。現在、存在する生物で、他にもこのような進化の道すじの手がかりになる生物はいますか。

先生：カモノハシという生物があてはまります。カモノハシは、くちばしをもち、体の表面には毛があります。また、雌は卵を産みますが、乳(母乳)で子を育てるという特徴をもち、複数の脊椎動物(セキツイ動物)のグループの特徴をもつ動物です。

Tさん：図2の脊椎動物の各グループが出現した年代をみると、脊椎動物は、魚類から両生類、両生類からハチュウ(は虫)類へと進化し、陸上生活に適した体のつくりになったと考えられます。

図2



先生：そうですね。それでは、植物の場合はどうでしょうか。最初に陸上に現れたのは、コケ植物で、次にシダ植物が現れました。コケ植物は、湿った場所で生活し、おもに [x] から水を吸収します。一方、シダ植物は、[y] があり、コケ植物に比べて、陸上生活に適した体のつくりになっています。

Sさん：植物も動物も、進化して陸上生活に適した体のつくりになったものがあるのですね。ところで、カエルは、えら呼吸で水中生活をする子から、肺呼吸で陸上生活をする親(おとな)へと体のつくりが変わりますが、これも進化でしょうか。

先生：いいえ、一生の間に起こる変化は、進化ではありません。進化とは、生物の形質が [z] 間に起こる変化のことです。

Sさん：そうなのですね。他にどのような進化があるか調べてみます。

(1) 会話文中の , にあてはまる脊椎動物(セキツイ動物)のグループとして最も適当なものを, 次のア~オのうちからそれぞれ一つずつ選び, その符号を書きなさい。

ア 魚 類

イ 両生類

ウ ハチュウ(は虫)類

エ ホニュウ(哺乳)類

オ 鳥 類

(2) 会話文中の下線部について, カモノハシは, ホニュウ(哺乳)類に分類されている。ホニュウ類の特徴として最も適当なものを, 次のア~エのうちから一つ選び, その符号を書きなさい。

ア くちばしをもつ。

イ えらで呼吸する。

ウ 雌は卵を産む。

エ 乳(母乳)で子を育てる。

(3) 会話文中の , にあてはまるものの組み合わせとして最も適当なものを, 次のア~エのうちから一つ選び, その符号を書きなさい。

ア x : 根 y : 維管束^{い かん そく}

イ x : 体の表面 y : 維管束

ウ x : 体の表面 y : 仮 根

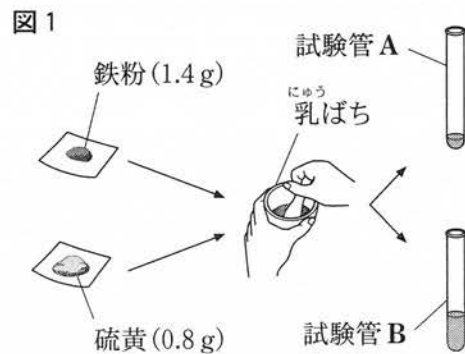
エ x : 根 y : 仮 根

(4) 会話文中の にあてはまる内容を, 簡潔に書きなさい。

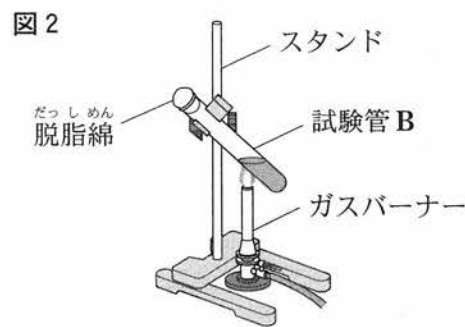
4 Sさんは、鉄と硫黄の反応について調べるため、次の実験を行いました。これに関する先生との会話文を読んで、あとの(1)~(4)の問いに答えなさい。

実験

① 図1のように、鉄粉1.4gと硫黄0.8gを乳ばちに入れ、よく混ぜ合わせ混合物とした。試験管を2本用意して、混合物の $\frac{1}{4}$ くらいを試験管Aに、残りを試験管Bに入れた。



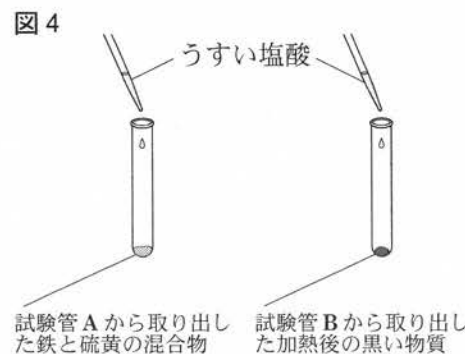
② 図2のように、脱脂綿で試験管Bにふたをして、混合物の上部を加熱した。混合物の上部が赤くなったところで加熱をやめ、変化のようすを観察した。そのあと、反応が進んで鉄と硫黄はすべて反応し、黒い物質ができた。



③ 図3のように、試験管Aに、磁石を近づけて試験管の中の混合物が磁石に引きつけられるかどうかを調べた。②の試験管Bについても同じように調べた。



④ ③の試験管A、Bの中の物質を少量ずつ取り出し、それぞれ別の試験管に入れた。次に、図4のように、それぞれの試験管にうすい塩酸を数滴入れ、発生する気体に、においがあるかどうかを調べた。



表は、実験の③、④の結果をまとめたものである。

表

	磁石を近づけたとき	うすい塩酸を数滴入れたとき
鉄と硫黄の混合物 (試験管A)	磁石に引きつけられた	においのない気体が発生した
加熱後の黒い物質 (試験管B)	磁石に引きつけられなかった	においのある気体が発生した

Sさん：実験の③、④の結果から、鉄と硫黄の混合物は加熱したことによって、別の物質に変化したことがわかりました。

先生：そうですね。この実験では、鉄と硫黄の2種類の単体が結びついて、^{りゅうかてつ}硫化鉄という化合物ができる化学変化が起きました。鉄原子を●、硫黄原子を○としたとき、この化学変化を表したモデルは、次のようになります。



Sさん：化学変化を表したモデルから考えると、化学反応式は \boxed{w} と表せます。今回の実験を、鉄粉 1.4 g と硫黄 0.8 g で行ったのはなぜですか。

先生：よい質問ですね。鉄と硫黄がすべて反応するとき、質量の関係は、図5のようになります。図5から、鉄の質量と、その鉄とすべて反応する硫黄の質量の比を、読み取ってみましょう。

Sさん：比例しているのでもっと簡単な整数比で表すと、

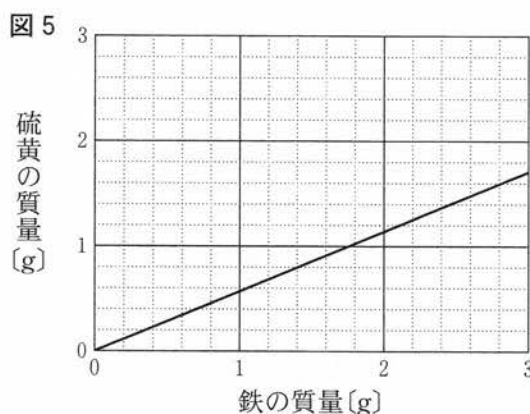
$$\text{鉄の質量} : \text{硫黄の質量} = \boxed{x}$$

となります。つまり、今回の実験はすべて反応する質量で行ったのですね。

先生：そのとおりです。使用する物質の質量について考えて実験しないと、どちらか一方の物質が反応せずにそのまま残ることになります。例えば、鉄 11.0 g と硫黄 6.0 g を反応させると、どちらが何 g 残ることになりますか。

Sさん： \boxed{y} が \boxed{z} g 残ります。

先生：そのとおりです。では、実験してみましょう。



(1) 会話文中の下線部について、化合物として最も適当なものを、次のア～エのうちから一つ選び、その符号を書きなさい。

ア 塩素 イ 酸素 ウ 水素 エ 水

(2) 会話文中の \boxed{w} にあてはまる化学変化を、化学反応式で書きなさい。

(3) 会話文中の \boxed{x} にあてはまるものとして最も適当なものを、次のア～エのうちから一つ選び、その符号を書きなさい。

ア 1 : 1 イ 4 : 7 ウ 7 : 4 エ 7 : 11

(4) 会話文中の \boxed{y} にあてはまる適当な物質名を、鉄、硫黄のうちから一つ選んで書きなさい。また、 \boxed{z} にあてはまる数値を書きなさい。

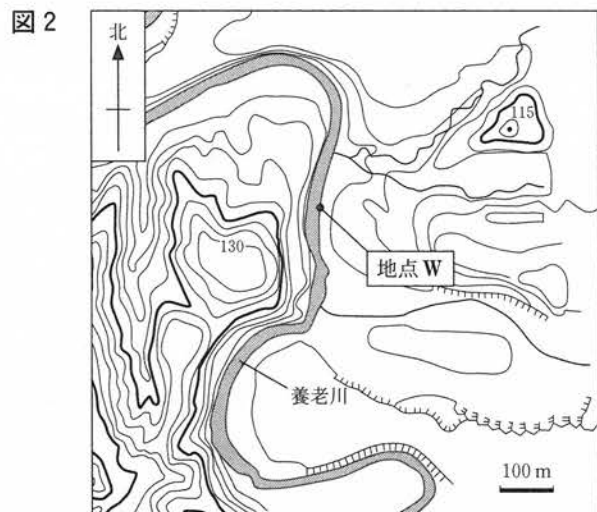
5 Sさんは、市原市の養老川に沿った露頭でチバニ안의地層を観察しました。これに関する先生との会話文を読んで、あとの(1)~(4)の問いに答えなさい。

先生：2020年に、市原市の地層が約77 図1

万4千年前から始まる時代の地層として国際的に認められ、この時代をチバニアンとよぶことが決定しました。そして、2022年5月に図1のようなゴールドenspайクという杭が打たれ、チバニアンと、それより古い時代との境界が示されました。



Sさん：図1のチバニアンを地層を観察してきました。図2のように、養老川に沿って露頭があり、地点Wで観察しました。



先生：これらの露頭は、養老川で、流水によって地層が削られる [x] のはたらきにより、できています。

Sさん：そうなのですね。チバニアンを地層を観察したり、調べたりしたことをまとめました。

まとめ

- ・堆積物の粒の [y] で分類すると、チバニアンを地層は泥の層である。
- ・地層は北に向かってゆるやかに傾斜している。
- ・チバニアンを地層と、チバニアンより古い時代の地層の間に白尾火山灰層がある。
- ・白尾火山灰層はこの地域の調査で、かぎ層として使われていて、他の場所でも見つかっている。
- ・海に生息している生物の化石が地層から見つかる。化石から水深500mより深い海で地層が堆積したことがわかっている。
- ・チバニアンは、地球の歴史の時代区分では [z] に含まれている。


先生：よくできました。

Sさん：ところで、チバニアンを地層は深い海でできていますが、なぜ地点Wで観察できるのですか。

先生：土地が隆起したからです。

図3

千葉県には隆起している地域があることが知られています。特に、千葉県南部の海岸には、図3のように、波によってつくられた平らな面が、地震のときの隆起で階段状になった海岸段丘があることが知られています。



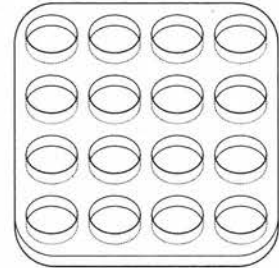
- (1) 会話文中の にあてはまる最も適切なことばを書きなさい。
- (2) まとめにある , にあてはまるものの組み合わせとして最も適切なものを、次のア～エのうちから一つ選び、その符号を書きなさい。
- ア y：大きさ z：新生代
イ y：大きさ z：中生代
ウ y：かたち z：新生代
エ y：かたち z：中生代
- (3) まとめにある、観察した結果や調べた内容に関連することとして最も適切なものを、次のア～エのうちから一つ選び、その符号を書きなさい。
- ア 深い海の環境を示す化石は、示準化石として離れた地層の比較に使うことができる。
イ 泥の地層から、地点Wの地層は、れきや砂が堆積する場所よりも陸に近い海で堆積した。
ウ 地点Wで観察したチバニアンの地層は、他の場所では観察できない。
エ 白尾火山灰層から、地点Wの地層が堆積している間の、ある時期に火山活動があった。
- (4) 会話文中の下線部について、海岸段丘は土地の隆起の他にどのようにしてできるか。そのしくみを「海面」ということばを用いて簡潔に書きなさい。

- 6 金属のイオンへのなりやすさを調べるため、次の実験を行いました。これに関して、あとの(1)~(4)の問いに答えなさい。

実験

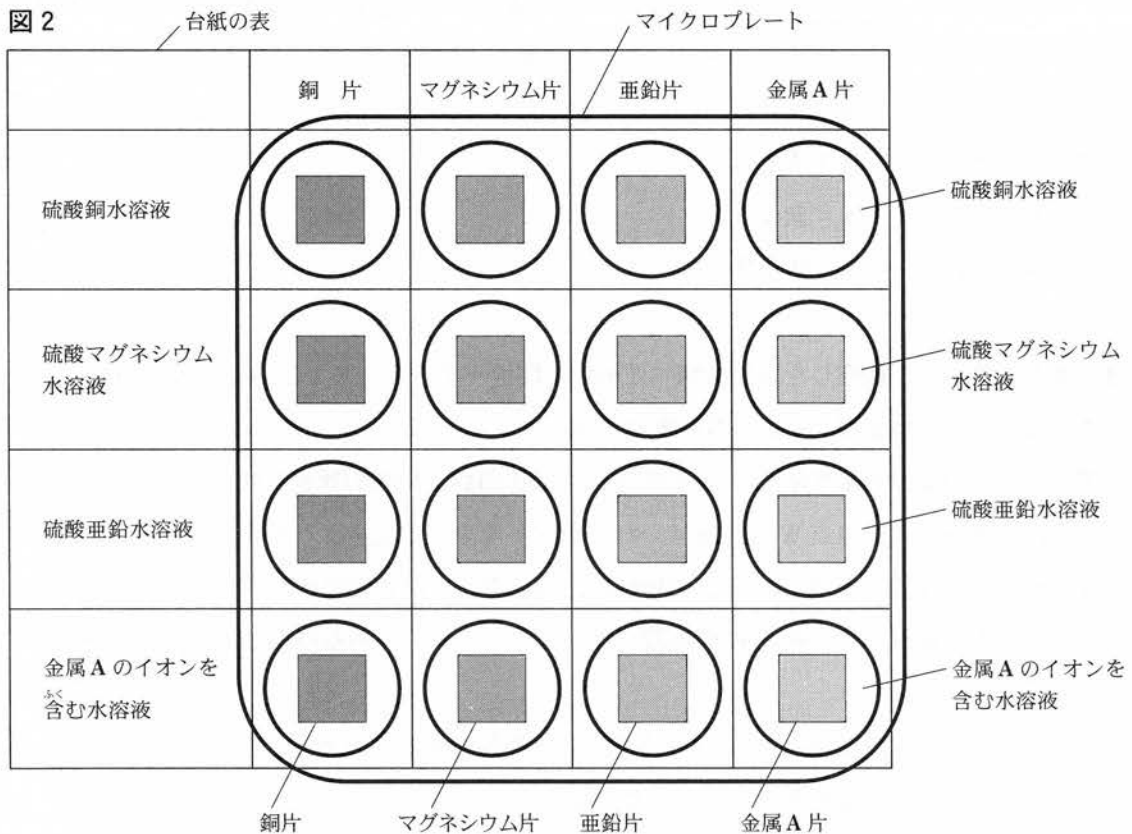
図1

- ① 図1のようなマイクロプレートの穴の大きさに合わせて台紙に表をかき、4種類の金属片と4種類の水溶液を入れる場所を決めた。
- ② 図2の模式図のように、マイクロプレートを台紙の表の位置に合わせて置き、それぞれに対応する金属片と水溶液を入れた。
- ③ それぞれの組み合わせで、どのような変化が起きているかを観察した。



表は、金属片に固体が付着した場合を○、固体が付着しなかった場合を×として、実験の結果をまとめたものである。

図2



表

	銅片	マグネシウム片	亜鉛片	金属A片
硫酸銅水溶液	×	○	○	○
硫酸マグネシウム水溶液	×	×	×	×
硫酸亜鉛水溶液	×	○	×	×
金属Aのイオンを含む水溶液	×	○	○	×

(1) 実験に用いた水溶液には、陽イオンと陰イオンが含まれている。このうち、陽イオンについて説明した文として最も適当なものを、次のア～エのうちから一つ選び、その符号を書きなさい。

- ア 原子が電子を受けとって、^{マイナス}の電気を帯びたものを陽イオンという。
- イ 原子が電子を受けとって、^{プラス}の電気を帯びたものを陽イオンという。
- ウ 原子が電子を失って、-の電気を帯びたものを陽イオンという。
- エ 原子が電子を失って、+の電気を帯びたものを陽イオンという。

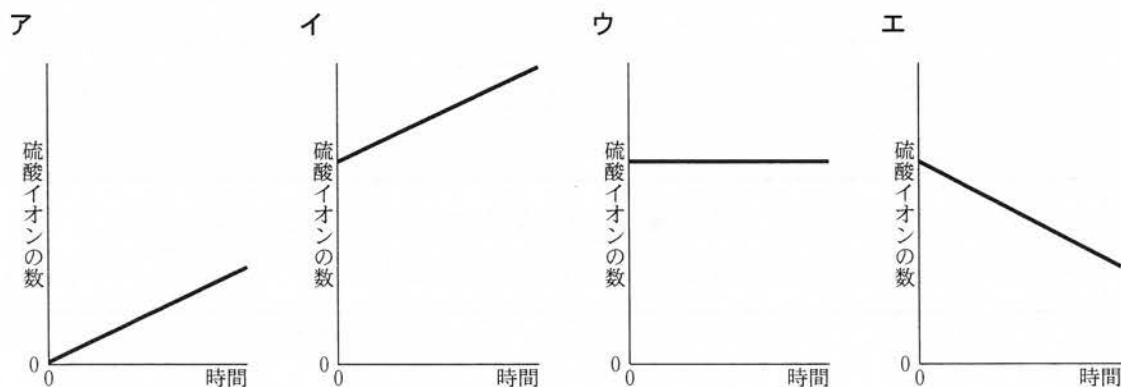

(2) 次の文は、実験でマイクロプレートにマグネシウム片と硫酸亜鉛水溶液を入れたときに起きた変化について述べたものである。文中の x , y にあてはまる最も適当な物質名を、それぞれ書きなさい。

マイクロプレートにマグネシウム片と硫酸亜鉛水溶液を入れると、x 原子が電子を失って x イオンとなり、y イオンが電子を受けとって y 原子となる。

(3) 実験の結果から、実験で用いた金属をイオンになりやすい順に左から並べたものとして最も適当なものを、次のア～エのうちから一つ選び、その符号を書きなさい。

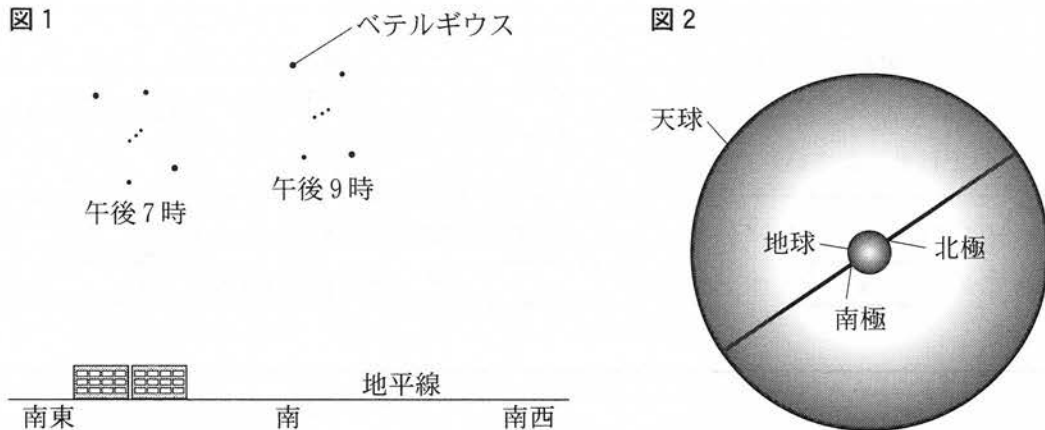
- ア 銅, 金属A, 亜鉛, マグネシウム
- イ マグネシウム, 亜鉛, 金属A, 銅
- ウ 銅, 亜鉛, 金属A, マグネシウム
- エ マグネシウム, 金属A, 亜鉛, 銅

(4) 図3は、実験でマイクロプレートに亜鉛片と硫酸銅水溶液を入れたとき、入れてからの時間と入れた硫酸銅水溶液中の銅イオンの数の関係を模式的に表したグラフである。このときの、時間と硫酸銅水溶液中の硫酸イオンの数の関係を模式的に表したグラフとして最も適当なものを、次のア～エのうちから一つ選び、その符号を書きなさい。



7 Sさんは、天体の動きを調べるために、千葉県内のある場所で、晴れた日にオリオン座の位置を観測しました。これに関する先生との会話文を読んで、あとの(1)~(4)の問いに答えなさい。

Sさん：図1のように、オリオン座の位置を記録しました。午後7時から午後9時にかけてオリオン座は移動し、午後9時にオリオン座のベテルギウスが南中しました。



先生：よくできました。観測した星の動きは日周運動といいます。図2で考えると、この運動は、北極と南極を結ぶ線を軸として、天球上の星が1日に1回転するように見えることです。

Sさん：日周運動は、地球が、北極側から見て 回りに しているために起こる見かけの動きともいえますね。

先生：そうです。

Sさん：日周運動を連続して記録するために、カメラで星の動きを撮影しました。

先生：よく撮れていますね。今回のような観測を、1か月後にもしてみませんか。

Sさん：はい。やってみたいです。1か月後にオリオン座を観測する計画を立てるには、日周運動だけでなく、年周運動も考える必要がありますか。

先生：そうです。あらかじめ、星を観測できる時間や方位を予想しておきましょう。

(1) 会話文中の下線部 a について、ベテルギウスは、太陽と同じく恒星とよばれる。次の文章は、恒星について説明したものである。文章中の にあてはまる内容を、15字以内(句読点を含む。)で書きなさい。

夜空では、恒星の他に、惑星や衛星も明るい星として観測できるものがある。しかし、恒星は、惑星や衛星のように光を反射して輝いているのではなく、 天体である。

(2) 会話文中の v , w にあてはまるものの組み合わせとして最も適当なものを、次のア～エのうちから一つ選び、その符号を書きなさい。

- ア v : 時計 w : 自 転
 イ v : 時計 w : 公 転
 ウ v : 反時計 w : 自 転
 エ v : 反時計 w : 公 転

(3) 会話文中の下線部 b について、図 3, 4 は、S さんが撮影した方位の星の動きを示す模式図である。図 3, 4 が示す空の方位の組み合わせとして最も適当なものを、あとのア～エのうちから一つ選び、その符号を書きなさい。

図 3

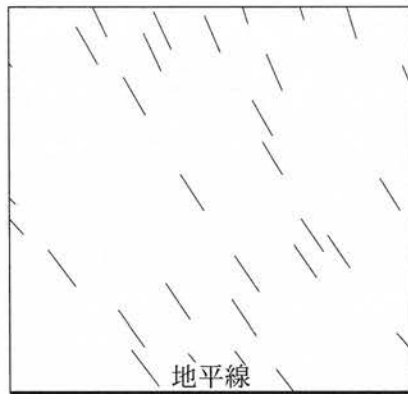
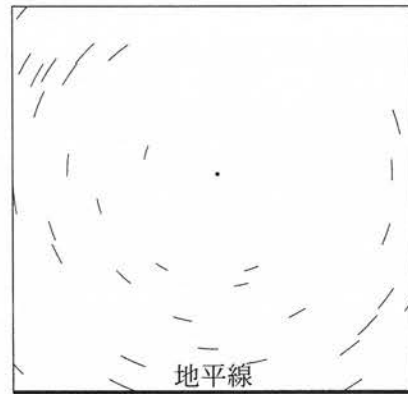


図 4



- ア 図 3 : 東 図 4 : 北
 イ 図 3 : 西 図 4 : 北
 ウ 図 3 : 東 図 4 : 南
 エ 図 3 : 西 図 4 : 南

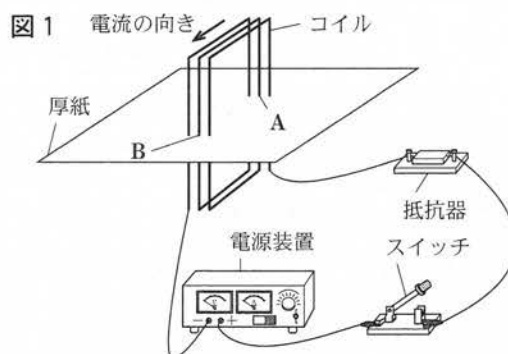
(4) 会話文中の下線部 c について、次の文章は、S さんが観測した日から 1 か月後にベテルギウスが南中する時刻を説明したものである。文章中の y にあてはまる適当な方位を、東、西のうちから一つ選んで書きなさい。また、z にあてはまる時刻として最も適当なものを、あとのア～エのうちから一つ選び、その符号を書きなさい。ただし、日周運動は 1 日で 1 回転し、1 時間あたり 15 度回転するものとする。

1 か月後のオリオン座は、同じ時刻で比べると、年周運動により y に動いている。そのため、日周運動を考えると、ベテルギウスが南中する時刻は z 頃になる。

- ア 午後 7 時 イ 午後 8 時 ウ 午後 10 時 エ 午後 11 時

8 Sさんは、一定の電流が流れるコイルのまわりにできる磁界について調べました。これに関する先生との会話文を読んで、あとの(1)~(4)の問いに答えなさい。ただし、回路には、大きな電流が流れないようにするために抵抗器を接続しています。

Sさん：図1のように、コイルのまわりにできる磁界を調べるための装置をつくり、厚紙に、鉄粉をまいたり、方位磁針を置いたりして、そのようすを調べようと思います。



先生：電源装置の切りかえスイッチを確認しましょう。

Sさん：電源装置の切りかえスイッチが交流になっていました。

先生：交流電流は、電流の向きと大きさが **w** ため、本日の実験の目的には適していません。オシロスコープを使って交流電流のようすを確認してみましょう。

Sさん：オシロスコープに表示された交流電流の波形は、 **x** の波形でした。

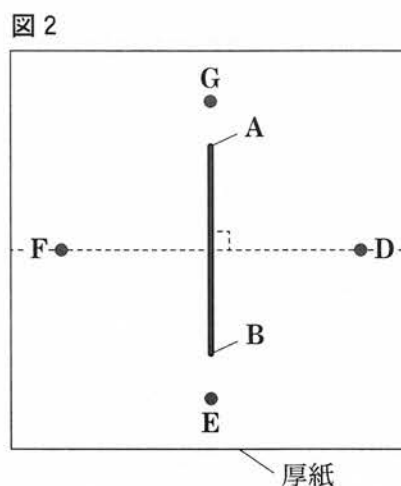
先生：そうですね。それでは、電源装置の切りかえスイッチを、直流にして実験をしてみましょう。

Sさん：鉄粉をまくと、はっきりと模様^{もよう}が確認でき、磁界のようすがわかりました。

先生：次は、方位磁針^aを置いてみましょう。

Sさん：図2のように、図1のコイルを真上から見たよう

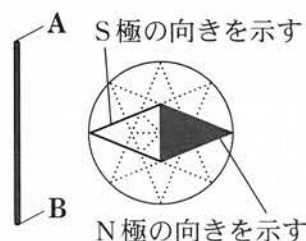
すを、模式的に表しました。また、図2のコイルのまわりのD~Gは、方位磁針を置く位置を表しています。D、Fは、コイルのA-B間を2等分する直線上にしました。



先生：方位磁針はどのようになっていましたか。

Sさん：Dでは、真上から見たようすを模式的に表すと、図3のようになっていました。残りのE、F、Gに方位磁針を置いて確認したところ、コイルのまわりにできる磁界^{ぜんたいざう}の向きの全体像がわかりました。回路^bを流れる電流の大きさを^c変化させたときについても確認したいと思います。

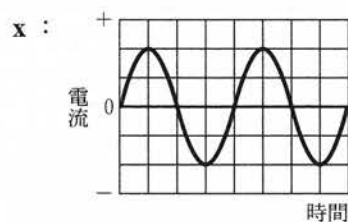
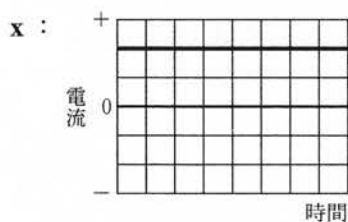
図3



(1) 会話文中の w , x にあてはまるものの組み合わせとして最も適当なものを、次のア～エのうちから一つ選び、その符号を書きなさい。

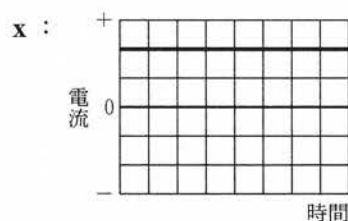
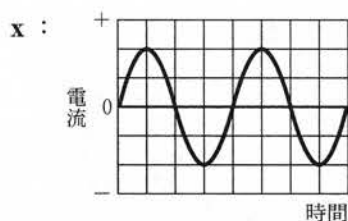
ア w : 周期的に入れかわる

イ w : 周期的に入れかわる



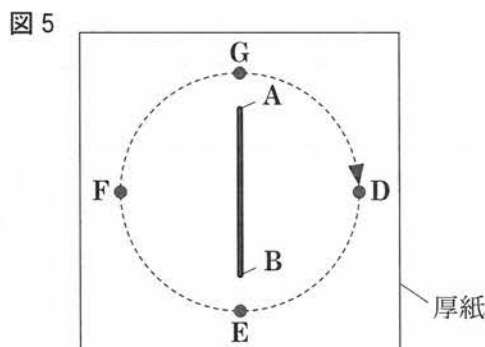
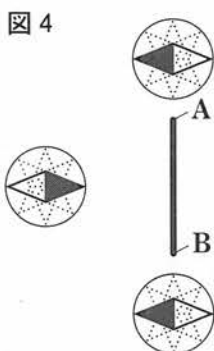
ウ w : 一定である

エ w : 一定である



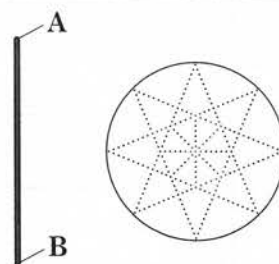
(2) 会話文中の下線部 a について、鉄粉をまいてできた模様^もに沿った曲線や直線を、磁界の向きをふまえて矢印で表したものを何というか、書きなさい。

(3) 会話文中の下線部 b について、図4は、図2の E, F, G に置いた方位磁針を真上から見たようすを、模式的に表したものである。図3の方位磁針を、図5のように、D から E, F, G をとお^り、もとの位置の D まで、時計回りに厚紙の上をゆっくりと、移動させた。このとき、方位磁針の N 極の向きを示す部分のようすを表したあとの文中の y にあてはまる適当なものを、時計、反時計のうちから一つ選んで書き、 z にあてはまる数値を書きなさい。



方位磁針の N 極の向きを示す部分は、 y 回りに z 周回る。

(4) 会話文中の下線部 c について、回路を流れる電流の大きさを大きくしたとき、D に置いた図3の方位磁針が指す向きはどのようになるか。解答用紙の図中に、実線で方位磁針のようすをかきなさい。ただし、図3にならって点線を利用し、N 極の向きを示す部分は塗りつぶすこと。



9 Sさんたちは、理科の授業で学校に生育する植物の観察を行いました。これに関する先生との会話文を読んで、あとの(1)~(4)の問いに答えなさい。

先生：学校にはいろいろな植物がありましたね。

Sさん：^aいくつかの植物を観察できました。図1は、タンポポのスケッチです。図2は、^bルーペを使って観察した、^cタンポポの小さな1つの花のスケッチです。タンポポの花は、小さな花がたくさん集まっていることがわかりました。

先生：よく観察できましたね。

Tさん：私は、イヌワラビを観察しました。図3は、イヌワラビの葉をスケッチしたものです。さらに、ルーペを使って葉の裏側^dも観察しましたが、小さくてくわしく観察できないものがありました。

先生：そのような場合には、^{けんびきょう}顕微鏡を使って観察してみましょう。

図1




図2

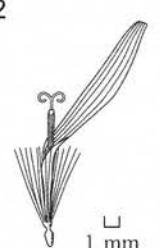



図3



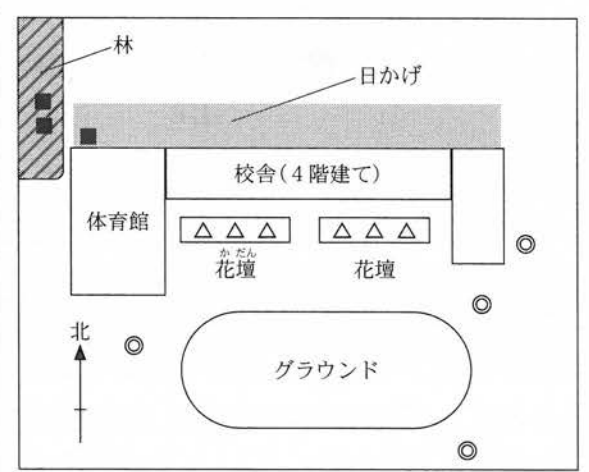
(1) 会話文中の下線部 a について、次のレポートは、Sさんたちが観察した植物についてまとめたものである。レポート中の下線部 e について、葉が互いに重ならないようになっていることは、タンポポやアブラナなどの植物が光合成をする上で、どのような点で都合がよいか、簡潔に書きなさい。

レポート

気づいたこと

- ・タンポポは、日当たりがよく乾燥した場所に多く見られた。
- ・日当たりがよい^{かたん}花壇には、アブラナが植えられていた。
- ・イヌワラビは、日かげや^{しめ}湿りけの多いところに見られた。
- ・タンポポやアブラナの葉のつき方を^e真上から見たとき、いずれも葉が互いに重ならないようになっていた。

観察した場所



◎ … タンポポ
 △ … アブラナ
 ■ … イヌワラビ

- (2) 会話文中の下線部 **b** について、植物を手にとってルーペで観察するときの、ルーペの使い方として最も適当なものを、次のア～エのうちから一つ選び、その符号を書きなさい。

ア



ルーペを植物に近づけ、その距離を保ちながら、ルーペと植物を一緒に動かして、よく見える位置をさがす。

イ



ルーペを目から遠ざけ、植物を動かさずにルーペを動かして、よく見える位置をさがす。

ウ



ルーペを目に近づけ、ルーペを動かさずに植物を動かして、よく見える位置をさがす。

エ



ルーペを目から遠ざけ、ルーペを動かさずに植物を動かして、よく見える位置をさがす。

- (3) 会話文中の下線部 **c** について、タンポポのように、花卉が互いにくっついている花を何というか、書きなさい。また、花卉が互いにくっついている花として最も適当なものを、次のア～エのうちから一つ選び、その符号を書きなさい。

ア ツツジ

イ アブラナ

ウ エンドウ

エ サクラ

- (4) 会話文中の下線部 **d** について、Tさんがまとめた次の文章中の , にあてはまる最も適当なことばを、それぞれ書きなさい。

イヌワラビの葉の裏側には、図4のような茶色いものが多数ついていました。顕微鏡を使って、その茶色いもの1つをくわしく観察したところ、図5のようなものであることがわかりました。

それについて調べたところ、図5は とよばれるものであり、イヌワラビは、タンポポとは異なり によってふえる植物であることがわかりました。

図4



茶色いもの

図5

